

# 令和三年度過去問解説会 【第一回社会】

## 解説冊子

(注) こちらのプリントを SNS に掲載することや出力したものをオークションで転売することはおやめください。

## ーはじめにー

本郷の社会の入試問題は,,,

①構成

大問1が地理、大問2が歴史、大問3が公民・現代社会の三分構成

②第一回大問1では**地形図**の問題が出る

→地形図の決まり（地図記号、主曲線・計曲線など）をおさえておこう！


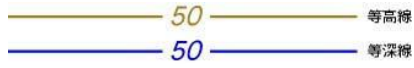
③大問3は**時事問題**が出ることが多い

→塾の時事参考書やニュースを要チェック！

ミスなく**確実に**高得点を取れるようにしよう！

**【大問1】**

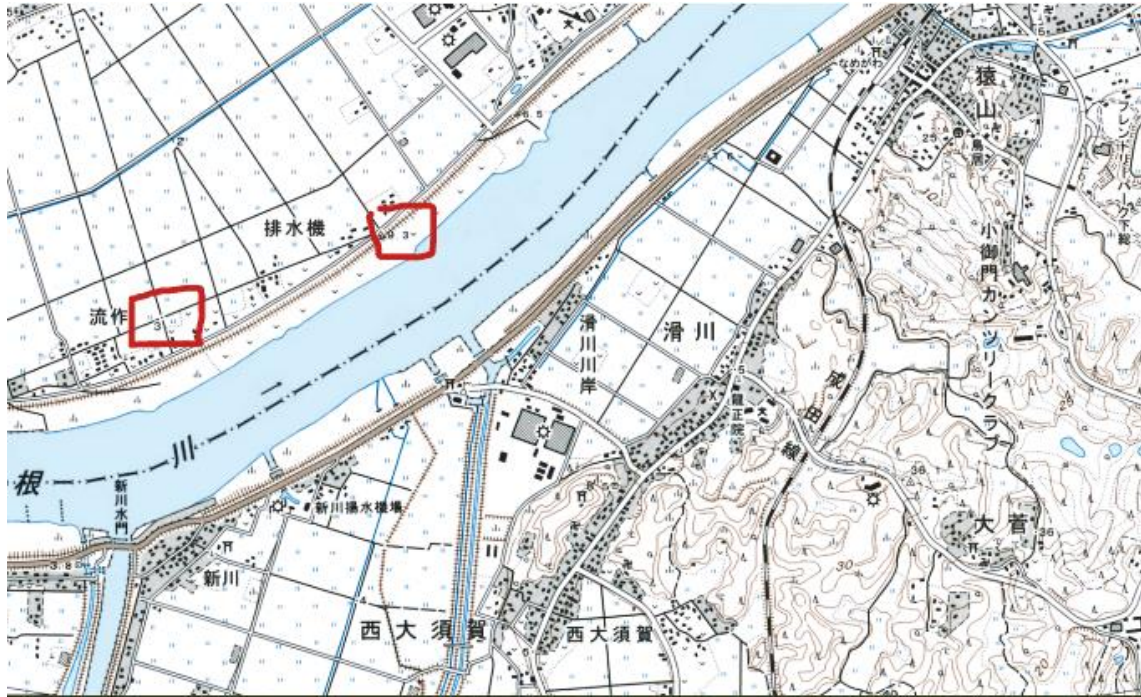
- 問1 (1) **坂東** 利根川は別名坂東太郎と呼ばれています。
- (2) **相模** 箱根という地名から神奈川県を導き出し、相模という旧国名を導きします
- (3) **筑後** 筑後川は筑紫次郎と呼ばれていて利根川の坂東太郎、吉野川の四国三郎と一緒に覚えましょう。
- (4) **銚子** 利根川が最後に通る市は銚子市です。
- 問2 **讃岐平野** 香川用水は讃岐平野を潤しています。
- 問3 **北西から南東へ** 地図は北を上にならされているので、地図を見ると利根川は北から南東へ流れています。
- 問4 **水戸市** 茨城県の県庁所在都市は水戸市です。
- 問5 **台地** ほかの土地よりも高くなっていて平らになっているのは台地です。

		5万分の1	2万5千分の1
主曲線		20mごと	10mごと
計曲線		100mごと	50mごと









問6① ○ ② ○ ③ ×

①赤線で囲った部分の主曲線から2万5000分の位置の地図と判断します。(10mごとに引かれているため)等高線が2本引かれているときの標高差は、20メートルです。

②赤線の近くにある茶色の線が堤防を表していてそれが新川をかこっているため○

③利根川の近くに3という数字と9,3という三角点があると思いますそれを比べると  
約6メートルとなるのでバツ

問7 ア イの塀の穴の意味は排水のためではないので×

ウの対策は沖縄の台風対策なので×

エの対策は北海道の寒さ対策なので×

問8 ア イの説明は福井県の説明なので×

ウの説明は三重県の説明なのでエの説明は北陸の県の説明なので×

問9 イ アの市は上り方面の東北新幹線に乗らないといけないので×

ウの市は東京方面に戻らないといけないので×

エの市は上り方面の東北新幹線に乗らないといけないので×

問10 エ アの説明は千葉県の説明なので○

イの説明は群馬県の説明なので○

ウの説明は栃木県の説明なので○

問 11 ウ カスリーン台風の被害を受けたのは葛飾区と江戸川区だけです。

問 12 エ エの説明は明らかに違うので×

□2問 1 ウ アの資料は大坂の陣の原因になった鐘です

イの資料は大和時代以前に使われた鉄剣です

ウの資料は大和、古墳時代に荷物を運ぶ時に使われた木簡です

エの資料は安土桃山時代の豊臣秀吉のころに使っていた小判です

これらの資料を年代順に並べるとイ>ウ>エ>アとなり二番目はウです

問 2 エ ア、イの資料は弥生時代のものです

ウの資料は縄文時代のものです

従ってこのころには文字があるのでエが間に適切なものです

問 3 ウ アは神話をまとめたものなので×

イは舎人親王が完成させた歴史書なので×

エは大伴家持を中心に作られた万葉仮名で書かれた日本最古の歌集です。

(代表的な歌貧窮問答歌-山上憶良)

問 4 イ ※この問題は全員正解とされた。

問 5 ウ 十三世紀末なので年代は 1270 年～1300 年の間となります。

従って元寇が起こったころの選択肢のウが正解です

アは 1185 年、イは 1221 年、エは 1392 年です。

問 6 ア この問いは誤っているものを選ぶので気をつけましょう。

\_\_\_\_\_年      \_\_\_\_\_年      \_\_\_\_\_年      \_\_\_\_\_年      \_\_\_\_\_年

**日清戦争 → 下関条約 → 三国干渉 → 日露戦争 → ポーツマス条約**

日本 首相: 外相:	_____ _____ _____ 、が 日本に対し 遼東半島の 返還を求める	日本海軍	日本 外相:
------------------	---	------	-----------

問7 明治 (い) 昭和 (く)

この問題は年号を全部覚えることも大切ですが、主な年号を覚えることでとけます。

明治 まず絶対に覚えるのは大日本帝国憲法発布の年です。→1889年黒田清隆首相の時に発布。

次に絶対覚えるものは下関条約の年とポーツマス条約の年です。

下関条約は日清戦争と、ポーツマス条約は日露戦争と一緒に覚えましょう  
日清戦争{甲午農民戦争(東学党の乱)がきっかけ}→1894年、

下関条約(首相伊藤博文、外相陸奥宗光→内容は清は朝鮮の独立を認める、  
リャオトン半島、賠償金2億テール)→1895、{→三国干渉(三国とはロシア・ドイツ・フランス)によりリャオトン半島は返却}(日英同盟→1902年)  
日露戦争(日本海海戦東郷平八郎)→1904年、ポーツマス条約(セオドアルーズベルト大統領の仲立ちで結ばれる、外相小村寿太郎、  
内容はロシアは日本が韓国で優越権を持つことを認める、旅順、大連を日本へ譲る、  
のちに南満州鉄道を日本へ譲る、南樺太を日本へ譲る)→1905年(余力がある人は治安警察法→1900年、大逆事件→1910年を覚えましょう)

これを覚えておくと選択肢が(い)だとわかります。

昭和 まず絶対に覚えるものは五・一五事件の年と二・二六事件の年です。



五・一五事件（海軍の青年らが首相官邸を襲い犬養毅を暗殺→政党内閣の  
終わり）→1932 年

（※政党内閣とは政党から選出された大臣らで構成された内閣）

二・二六事件（陸軍の一部が大臣や首相らを襲って一時的に東京の一部を  
占領した事件）→1936 年

次に絶対覚えるものは関東大震災の年と日独伊三国軍事同盟調印の年で  
す。

関東大震災→1923 年

日独伊三国軍事同盟調印（ドイツ、イタリアと結んだ軍事同盟です）  
→1940 年

（余力がある人は日ソ基本条約→1925 年も覚えましょう。）

これを覚えると（く）だとわかります。

問 8 ア イは戦争に負けそうになったことなので×

ウは戦争が終わるきっかけになったことなので×

エは東京大空襲の後なので×

問 9 岩手県 国語と関係しますが宮沢賢治の出身は岩手県です

問 10 菅原道真 北野天神縁起絵巻は菅原道真について記されたものです。

北野天満宮は北野さんとも呼ばれることから導きましょう

（※北野天満宮は菅原道真が祭られています）

問 11 マルコ・ポーロ 記録 I はマルコ・ポーロによって口述されたものです。

覚えておきましょう。

問 12 金（黄金） 問 11 のことと関連付けて覚えましょう

【記録Ⅲ】

3月3日朝、食事の後2階で片付などをしていましたら、窓の下が騒がしいので障子を開けてみました。そうすると、20人位の人が右へ左へと走りまわり、「これは何だ」と見ているうちに2～3人も斬り殺されて、（行列の）駕籠を守る人たちが斬り合いをしていました。大柄の男、中背の男一人が駕籠に向けて斬りかかり、短筒（短銃）をドンと発砲しました。

（1860年、現千代田区霞が関付近での出来事の証言）

問 13 桜田門外の変 赤線の 1860 年という年号から導き出しましょう。

{※桜田門外の変とは井伊直弼が水戸の浪士（主君を失った武士）に暗殺される事件です}

問 14 中山道 京都に行く街道は中山道と東海道がありますが板橋を通るのは、中山道です。

問 15 しょういだん 東京大空襲の時に米軍爆撃機が投下したものを焼夷弾といいます。この問題は焼夷弾をひらがなで書くことを気をつけましょう。

問 16 保存方法 ア イは音声だけだと証言を話している時の様子がわからないので×  
ウは文字記録だと証言を話している時の気持ちが伝わらないので  
理由 イ アに関する理由を選べばいいのでイ

□3 問 1 東京タワー（東京電波塔） 1958 年に完成した電波塔は東京タワーです。

（東京スカイツリーは 2012 年に完成）

問 2(1) エ 三種の神器は電気洗濯機、電気冷蔵庫、白黒テレビです。

(2) イ アは 1927 年、ウは 1931 年、エは 1994 年にできました。

問 3 イ 第一審判決なのでウとエが消えます。そして、簡易裁判所では罪が軽い事件を扱うことが多いのでイとなります。

問 4 エ 都道府県と同等に扱われる市の名称は政令指定都市と言います。

問 5 日本銀行 紙幣を発行している機関は日本銀行です。

問 6(1) イートイン 買った食べ物を店内で食べるとイートインになります。

(2) 軽減税率 軽減税率の対象商品は酒類と外食を除く飲食品と新聞です。

(3) 600 肉まんと缶コーヒーとティッシュと歯ブラシの合計金額は 600 円です。

(4) 8 軽減税率の税率は 8 パーセントです。

(5) キャッシュレス バーコードでの読み取りやクレジットカードを利用した支払方法をキャッシュレスと言います。

問 7(X) 5 (Y) 3 憲法記念日からこの数字を導き出しましょう。